



Đề thi
Trạng Nguyên
Toàn Tài 3
(Năm 2021)

Tài liệu dành tặng cho học sinh







ĐỀ THI TRẠNG NGUYÊN TOÀN TÀI LỚP 3



(Năm học 2020 – 2021)

TRẠNG NGUYÊN TOÀN TÀI - CẤP HUYỆN

Bài 1: Mèo con nhanh nhẹn

Em hãy giúp bạn mèo ghép 2 ô đã cho để tạo thành cặp tương ứng.

1 long	2 to lớn	3 	4 short	5 
6 nhỏ bé	7 star fruit	8 	9 small	10 
11 Christmas	12 ngắn	13 grape	14 student	15 big
16 coconut	17 dài	18 quả táo	19 học sinh	20 apple



<input type="text"/>	và	<input type="text"/>	;	<input type="text"/>	và	<input type="text"/>	;	<input type="text"/>	và	<input type="text"/>	;	<input type="text"/>	và	<input type="text"/>	;	<input type="text"/>	và	<input type="text"/>
<input type="text"/>	và	<input type="text"/>	;	<input type="text"/>	và	<input type="text"/>	;	<input type="text"/>	và	<input type="text"/>	;	<input type="text"/>	và	<input type="text"/>	;	<input type="text"/>	và	<input type="text"/>



Bài 2: Chuột vàng tài ba

Em hãy giúp bạn chuột nối các ô chứa nội dung với các giỏ chủ đề phù hợp, những ô không đúng với các chủ đề, em không nối.

The illustration shows a matching exercise. On the left, a cartoon mouse character stands near a path. In the center, there are 15 green square boxes, each containing a division problem. On the right, there are three hanging baskets, each with a label: "chia hết" (top), "chia dư 3" (middle), and "chia dư 4" (bottom). The background shows a park with trees, a lake, and a city skyline.

Division Problem	Category
$90:3$	chia hết
$73:8$	chia hết
$64:5$	chia hết
$87:7$	chia hết
$85:3$	chia hết
$76:9$	chia hết
$94:7$	chia hết
$68:2$	chia hết
$71:4$	chia hết
$100:6$	chia hết
$82:9$	chia hết
$65:5$	chia hết
$80:4$	chia hết

Bài 3: Trắc nghiệm

Em hãy khoanh tròn vào chữ cái trước câu trả lời đúng.

1. Đâu là cơ quan hành chính tại tỉnh, thành phố?

- A. Bệnh viện
- B. Đài truyền hình
- C. Trường học
- D. Ủy ban Nhân dân

2. Việc làm nào dưới đây dễ gây cháy nổ?

- A. Tắt hết thiết bị điện trước khi ra khỏi phòng
- B. Để xăng, dầu bên cạnh bếp
- C. Lắp đặt nguồn điện an toàn
- D. Trang bị bình chữa cháy

3. Trò chơi nào dưới đây dễ gây nguy hiểm cho bản thân và người khác?

- A. đuổi bắt nhau
- B. cờ vua
- C. ô ăn quan
- D. đá cầu

4. Trạng thái nào có lợi với cơ quan thần kinh của con người?

- A. lo lắng
- B. sợ hãi
- C. tức giận
- D. vui vẻ

5. Bài tập đọc nào dưới đây ca ngợi vẻ đẹp của rừng núi Tây Bắc và sự dũng cảm của con người Tây Bắc khi tham gia chiến đấu?

- A. Hai bàn tay em
- B. Người con của Tây Nguyên
- C. Nhớ Việt Bắc
- D. Cửa Tùng

6. Câu "Hoa đang làm bài tập về nhà." thuộc kiểu câu nào?

- A. Ai làm gì? B. Ai là gì? C. Ai thế nào? D. Ở đâu?

7. Điền vào chỗ chấm để tạo thành câu có hình ảnh so sánh phù hợp.

Mảnh trăng khuyết lơ lửng giữa trời [...]

- A. như một quả cầu lửa
B. như một chiếc mâm bạc
C. như một chiếc liềm bạc
D. như một dải lụa

8. Từ ngữ nào dưới đây viết sai chính tả?

- A. sẻ gỗ B. chim sẻ C. thợ xẻ D. chia sẻ

9. Từ ngữ nào dưới đây viết đúng chính tả?

- A. giang tay B. rang lạc C. rộn dàng D. dềnh ràng

10. Giải câu đố sau:

Quả gì nhiều ở miền Nam

Vỏ gai chi chít, tên nghe rất buồn?

- A. quả mít C. quả nhãn
B. quả măng cụt D. quả sầu riêng

TRẠNG NGUYÊN TOÀN TÀI - CẤP TỈNH



Bài 1: Chuột vàng tài ba

Em hãy giúp bạn chuột nối các ô chứa nội dung với các giỏ chủ đề phù hợp, những ô không đúng với các chủ đề, em không nối.

75 x 3

874 - 659

618 : 3

968 - 764

693 - 468

675 : 3

999 - 784

816 : 4

860 : 4

693 - 478

705 : 3

568 - 295

812 : 4

< 205

= 215

= 225



Bài 2: Trâu vàng yên bác

Em hãy giúp bạn trâu điền chữ cái còn thiếu vào chỗ trống.

q u i t

w r i e

a u t u n

m i r o r

p l e a e

s p i n g

c o l o r

s c h o l

y l l o w

b o o k a s e

Bài 3: Trắc nghiệm

Em hãy khoanh tròn vào chữ cái trước câu trả lời đúng.

1. Đâu *không* phải là bệnh viêm đường hô hấp thường gặp?

- A. viêm họng
- B. viêm phổi
- C. viêm gan
- D. viêm phế quản

2. Bộ phận nào dưới đây thuộc cơ quan thần kinh?

- A. khí quản
- B. tuỷ sống
- C. thận
- D. tim

3. Nơi làm việc của quan lại thời xưa được gọi là gì?

- A. giảng đường
- B. học đường
- C. công trường
- D. công đường

4. Em gái của mẹ được gọi là gì?

- A. thím
- B. mẹ
- C. dì
- D. cô

5. Hoạt động nào dưới đây là hoạt động công nghiệp?

- A. trồng trọt
- B. chăn nuôi
- C. khai thác khoáng sản
- D. đánh bắt và nuôi trồng thủy sản

6. Câu nào dưới đây sử dụng sai dấu phẩy?

- A. Nhờ bác lao công, sân trường luôn sạch sẽ.
- B. Chào mào, sáo sậu đua nhau bay lên bầu trời.
- C. Trên cành những chú chim họa mi cất tiếng hót.
- D. Trên phố, xe cộ đi lại nườm nượp.

7. Khổ thơ sau có bao nhiêu từ viết sai chính tả?

*Núi cao ngủ giữa chần mây
Quả xim béo mọng ngủ ngay vệ đường
Bắp ngô vàng ngủ trên nương
Một ròi tiếng sáo ngủ vườn chúc xanh
Chỉ còn dòng suối lượn quanh
Thức nâng nhịp cối thậm thình suốt đêm.*

(Theo Quang Huy)

- A. 1 B. 2 C. 3 D. 4

8. Thành ngữ, tục ngữ nào dưới đây nói về truyền thống đoàn kết của dân tộc ta?

- A. Chung lưng đấu cật
B. Một nắng hai sương
C. Ăn quả nhớ kẻ trồng cây
D. Đi một ngày đàng, học một sàng khôn

9. Dòng nào dưới đây là thành ngữ, tục ngữ?

- A. Lá rụng về nguồn
B. Một con sâu bỏ vào nồi canh
C. Một miếng khi đói bằng một gói khi no
D. Một giọt máu đào hơn ao nước lục

10. Giải câu đố sau:

*Lá gì đi mọi nẻo đường
Theo dòng địa chỉ đến muôn phương nhà?*

- A. lá thư B. lá ổi C. lá mít D. lá vải